

# Visita ao Centro Histórico

Mapa e



Caderno do Explorador

Nome do Explorador: \_\_\_\_\_

Data: \_\_\_\_\_

# Visita ao Centro Histórico

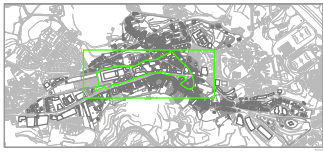
Mapa e



Caderno do Explorador

Nome do Explorador: \_\_\_\_\_

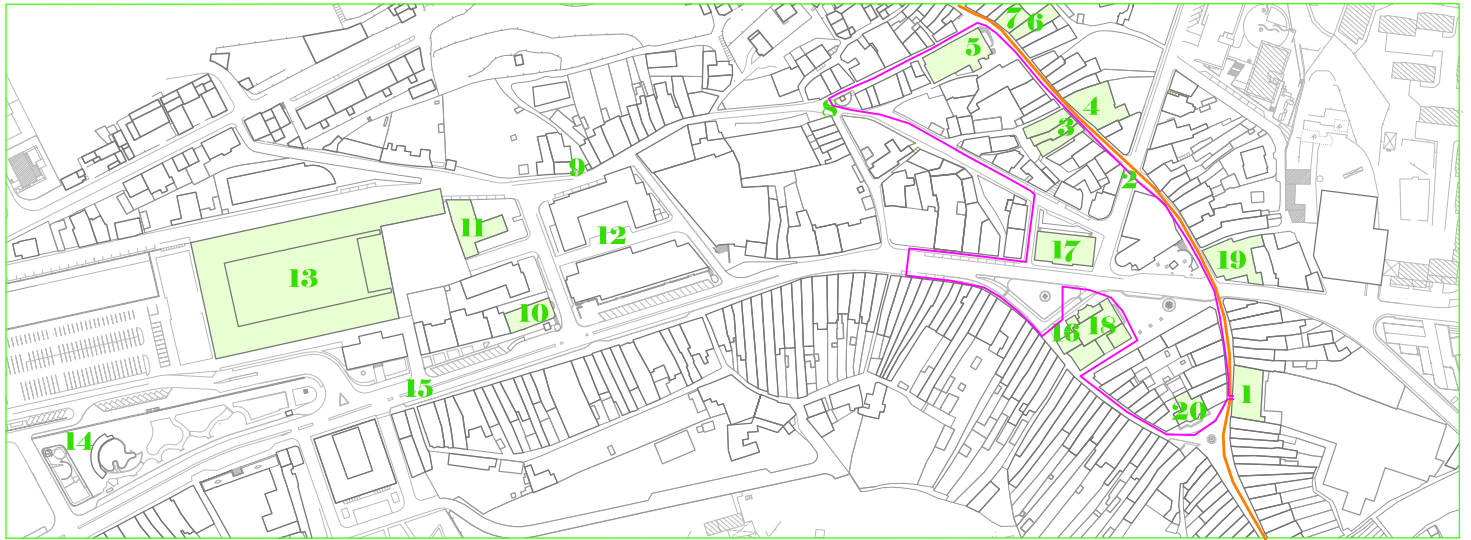
Data: \_\_\_\_\_



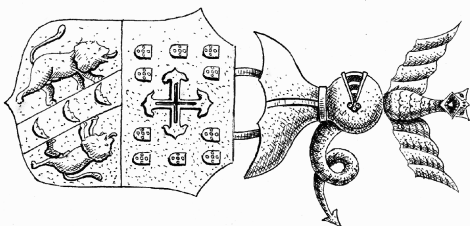

# Mapa do Centro Histórico da Cidade de Penafiel

Percurso 1 \_\_\_\_\_

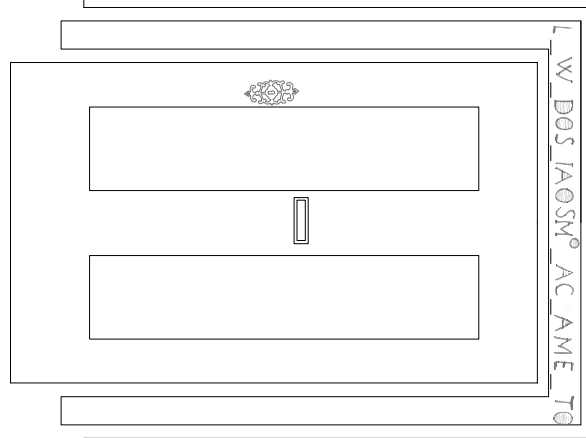
Antiga estrada medieval \_\_\_\_\_



- |   |   |  |
|---|---|--|
| <b>1</b> Museu Municipal  | <b>8</b> Capela da Via Sacra                              | <b>15</b> Antiga Rua Formosa               |
| <b>2</b> Antiga estrada medieval                                | <b>9</b> Capela da Via Sacra                              | <b>16</b> Pelourinho de Arrifana de Sousa  |
| <b>3</b> Casas de habitação do século XVII                      | <b>10</b> Igreja do Recolhimento de N.ª Sr.ª da Conceição | <b>17</b> Câmara Municipal                 |
| <b>4</b> Casa da família Garcez                                 | <b>11</b> Escola Primária Conde Ferreira                  | <b>18</b> Igreja da Misericórdia           |
| <b>5</b> Igreja paroquial                                       | <b>12</b> Antigo Mercado da Alegria                       | <b>19</b> Antigo Paço Episcopal            |
| <b>6</b> Albergaria do Espírito Santo/Capela do Hospital/Teatro | <b>13</b> Quartel Militar                                 | <b>20</b> Capela de Nossa Senhora da Ajuda |
| <b>7</b> Casa da família Soares Barbosa                         | <b>14</b> Jardim Público do Calvário                      |  |



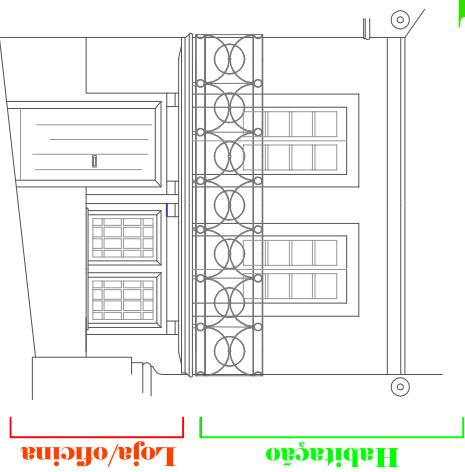
Escreve o nome da família que corresponde a cada brasão.



Completa a inscrição gravada na padieira da porta.

# 4

Caracteriza a casa típica do Centro Histórico da Cidade de Penafiel:



Habituação

Loja/oficina

---



---



---



---




---



---

# 5

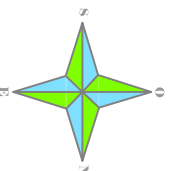


A capela de Santa Luzia foi igreja paroquial até ao século XVI. Como se chamava a freguesia nessa época?


---

Depois da transferência da sede da freguesia para Arrifana de Sousa, construiu-se neste lugar uma nova igreja paroquial, sobre a antiga Capela do \_\_\_\_\_.

Na planta, pinta o retângulo que corresponde a essa capela.



O próximo desenho representa o Pelourinho de Arrifana de Sousa. Ouve a explicação e assinala com X as opções verdadeiras.



Um pelourinho é...

... uma coluna de pedra colocada em lugar público para decorar e estender a roupa.

... uma coluna de pedra colocada em lugar público, de uma cidade ou vila, onde se castigavam os criminosos.

Os pelourinhos também são conhecidos por...

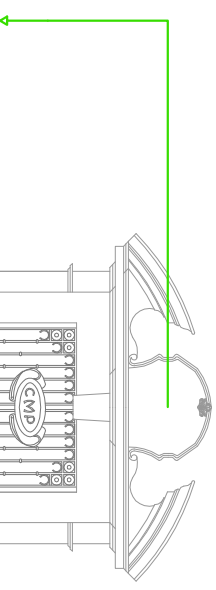
... picota.

... mastro.

# 16

Lê a inscrição gravada no frontão da porta da Câmara Municipal e preenche os espaços em branco.

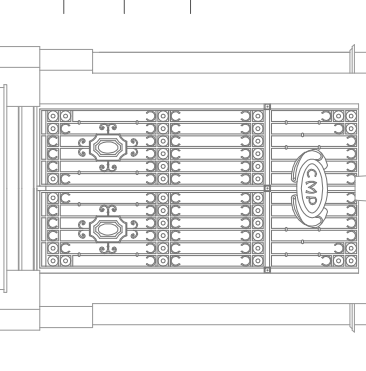
# 17



A Rainha: \_\_\_\_\_

O Corregedor: \_\_\_\_\_

O Ano: \_\_\_\_\_

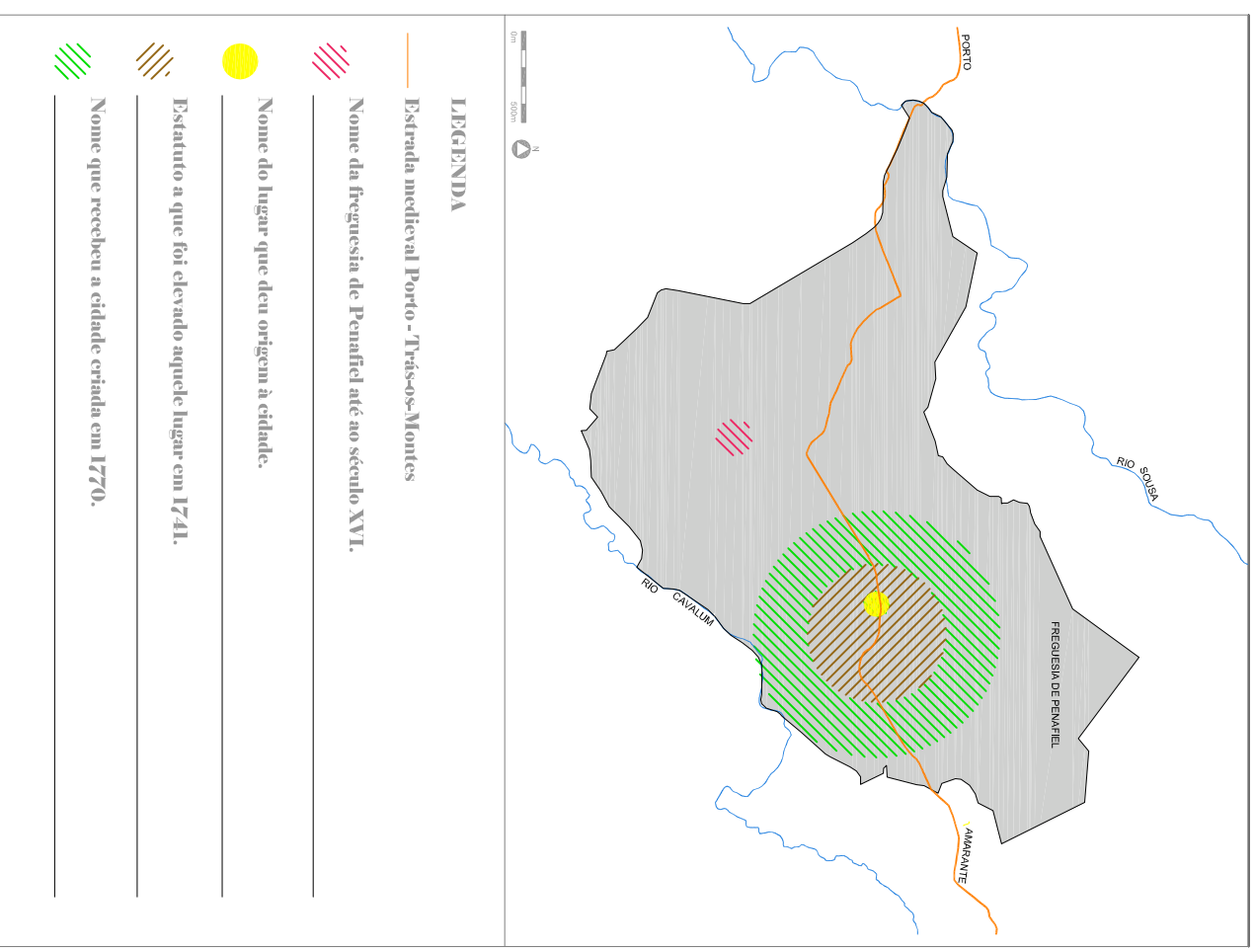


Durante o bispado de Penafiel, a Igreja da Misericórdia serviu de Sé Catedral e o edifício localizado em frente funcionou como paço episcopal. No Museu de Arte Sacra podes conhecer o primeiro e único bispo de Penafiel, Frei Inácio de São Caetano.

# 18



Concluída a visita ao Centro Histórico da cidade de Penafiel, completa a legenda do mapa.



**Terminamos a nossa viagem pelo Centro Histórico...  
Esperamos que tenha sido divertida. Até breve!**